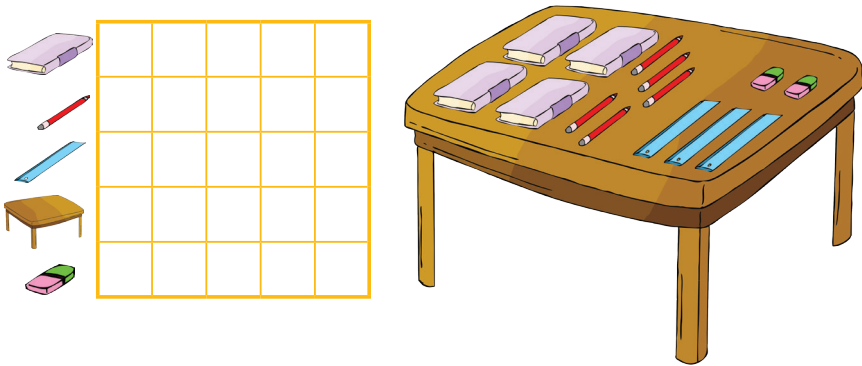


شمارش یک تا پنج

الگوهای تکرار شونده - سرشماری

قرین و فعالیت

۱ از هر شکل چند تا هست؟ به تعداد هر شکل خانهی مقابل آن را رنگ کن.



۲ دسته‌هایی که تعداد شکل‌هایشان مثل هم است با خط کش به هم وصل کن.





۳ با توجه به شکل سمت چپ، از شکل داخل کادر سمت راست رنگ بزن.

در دست دختر چند شاخه گل هست؟ به تعداد گل‌ها داخل مثلث‌ها را **زرد** کن.


در دست پسر چند بادکنک هست؟ به تعداد بادکنک‌ها داخل مربع‌ها را **قرمز** کن.

لباس دختر چند دکمه دارد؟ به تعداد دکمه‌ها داخل دایره‌ها را **آبی** کن.

لباس پسر چند جیب دارد؟ به تعداد جیب‌ها داخل چهارگوش‌ها را **سبز** کن.





۴ جدول شگفت را با رنگ مناسب کامل کن.

آبی	آبی	
زرد		آبی
آبی	زرد	

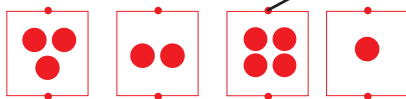


۵ در هر ردیف شکل بعدی کدام است؟ مانند نمونه دور آن خط بسته بکش.




۶ هر کدام چند چرخ دارند؟

از خط کش استفاده کن و مانند نمونه هر وسیله را به دسته‌ای که تعداد چرخ‌های آن‌ها را نشان می‌دهد، وصل کن.





۷ تعداد نقطه‌ها در دایره‌های کوچک باید با تعداد شکل‌های دایره‌های بزرگ مثل هم باشند. در هر قسمت نقطه‌ها را کامل کن.




بیان سریع تعداد دسته‌های تا پنج تایی - تشخیص دسته‌های
مساوی جدول سه‌دو و سه‌سه

افزافه کردن یکی به دسته‌های تا پنج تایی
(بیان «بعدها») - بیان «قبل و بعد یک»

مقایسه و فعالیت

مانند نمونه، به تعداد شکل‌های سمت راست از انگشتان دست راست و به تعداد شکل‌های
سمت چپ از انگشتان دست چپ رنگ کن.






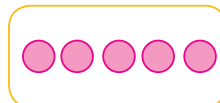

یکی بعد از تعداد شکل‌های هر دسته از شکل‌های سمت چپ در جاهای خالی سمت
راست بکش.





۱۰ تعداد شکل‌های وسط را بگو و مانند نمونه سمت چپ یکی کمتر و سمت راست یکی

بیشتر دایره بکش.

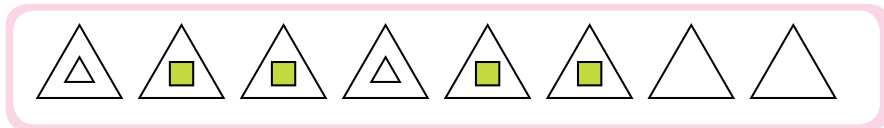
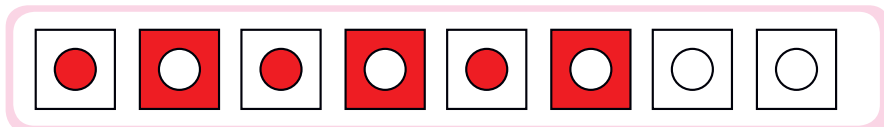



۱۱ دو تا قبل از تعداد شکل‌های هر دسته از شکل‌های سمت راست در جاهای خالی


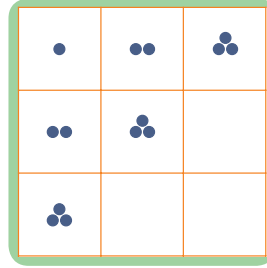

سمت چپ بکش.



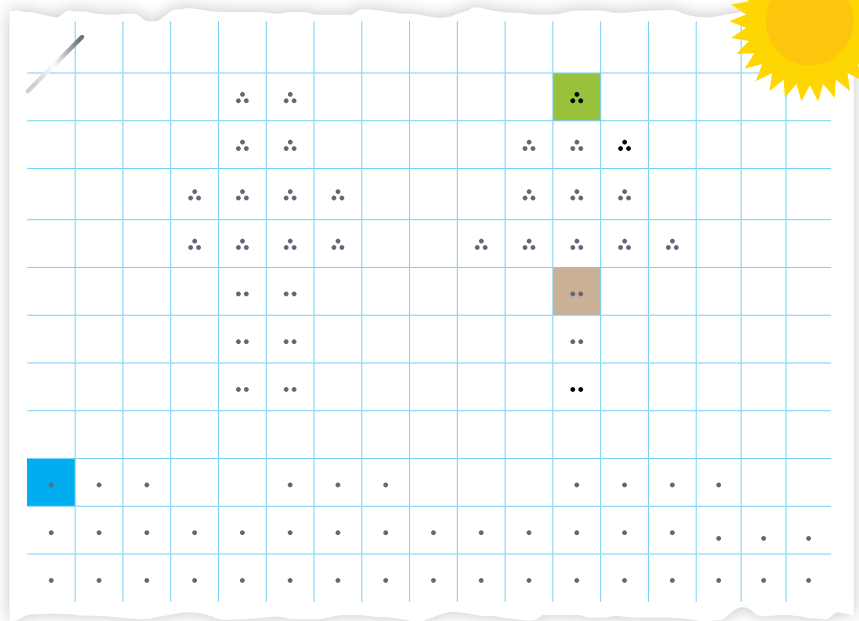
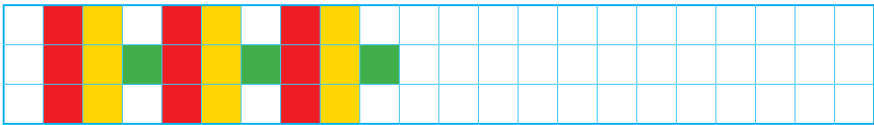

۱۲ دو شکل بعدی هر سطر را طبق الگو رنگ بزن.



۱۳ در هر جدول شکل‌ها را به طور مناسب کامل با رنگ کن.



۱۴ در هر سطر رنگ کردن را مثل الگو ادامه بده.



۱۵ با توجه به مطالب خواسته شده خانه‌ها را رنگ کن.

● خانه‌هایی را که ۱ نقطه دارند، آبی کن.



● خانه‌هایی را که ۲ نقطه دارند، قهوه‌ای کن.



● خانه‌هایی را که ۳ نقطه دارند، سبز کن.



مفهوم جمع و شمارش شکل های سه بعدی

جدول جمع - سودو کو 4×4

قرین و فعالیت

۱۶ در هر قسمت بگو مورچه چند خانه جلو رفته است؛ بعد دو خانه ی جلوتر را رنگ کن و بگو اگر مورچه دو خانه جلوتر برود، چند خانه می شود؟

Four ants are positioned on top of four separate 4x4 grids. The first two ants are on the top edge, and the last two are on the bottom edge. This setup is used for a counting exercise where students track the ant's movement and color the path it takes.

۱۷ مربع های شگفت انگیز را به طور مناسب کامل کن.

Three 4x4 magic square puzzles are provided. The first puzzle is a standard 4x4 grid with colored squares (green, red, blue, yellow) in a specific pattern. The second puzzle is a 4x4 grid with colored shapes (triangle, circle, square, rectangle) in a specific pattern. The third puzzle is a 4x4 grid with various smiley faces (happy, sad, neutral, surprised).



۱۸ مانند نمونه‌ها جدول‌ها را کامل کن.

↶	▲	▲▲	▲▲▲	▲▲▲
▲	▲▲			

↶	●
●●	●●●
■	
●●●	
■■■	

↶	♣	♣♣	♣♣♣
♣	♣♣	♣♣♣	♣♣♣♣
♣♣	♣♣♣	♣♣♣♣	♣♣♣♣♣

↶	♣	♣♣	♣♣♣	♣♣♣♣
♣	♣♣	♣♣♣	♣♣♣♣	♣♣♣♣♣
♣♣	♣♣♣	♣♣♣♣	♣♣♣♣♣	♣♣♣♣♣♣

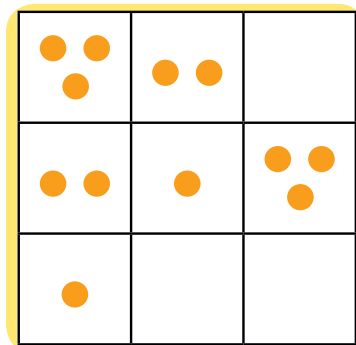

۱۹ تعداد چوب‌کبریت‌های سمت چپ را بگو و مانند نمونه با همان تعداد ۳ شکل متفاوت بساز و بکش.



۲۰ از هر جانور چند تا در شکل زیر می‌بینی؟ به تعداد هر کدام خانه‌های زیر آن را رنگ کن.

۲۱ خانه‌های خالی جدول‌ها را کامل کن.





۲۲ کدام ردیف الگوی مشخصی دارد؟ دو شکل بعدی آن را بکش. کنار ردیفی که الگوی مشخص ندارد، علامت \times بزن.



۲۳ جدول را کامل کن.

